

## Arbeitsauftrag – Gruppe 2

Trage die **Einwohnerzahlen** der einzelnen Länder **in** die **Karte** ein. Die nötigen Informationen erhältst du auf der nächsten Seite. Du darfst selbst entscheiden, wie du diese darstellst. Um Vergleiche und Unterschiede zu verdeutlichen, nutze **folgende Klassifizierung** (s. auch Karte):

< 1 Mio.

1 Mio. – 3 Mio.

3 Mio. – 6 Mio.

6 Mio. – 10 Mio.











10 Mio. – 15 Mio.

> 15 Mio.

Das bedeutet, dass die Bundesländer, die beispielsweise zu der Kategorie 1 Mio. – 3 Mio. gehören, dieselbe Darstellung erhalten. Ordne jeder Klasse ihre **Darstellung in der Legende** zu. (Gehe **klassenweise** vor und trage die jeweilige Darstellung in die Legende ein, bevor mit der nächsten begonnen wird.)

# Einwohner\*Innenzahl der Bundesländer

Beachte: Ein Mensch steht für eine Million und ein Baby für weniger als eine Million.

- Saarland: 
- Rheinland-Pfalz: 
- Baden-Württemberg: 
- Bayern: 
- Sachsen: 
- Sachsen-Anhalt: 
- Thüringen: 
- Hessen: 
- Nordrhein-Westfalen: 
- Niedersachsen: 
- Mecklenburg-Vorpommern: 
- Schleswig-Holstein:
- Brandenburg: 
- Berlin: 
- Hamburg: 
- Bremen: 